

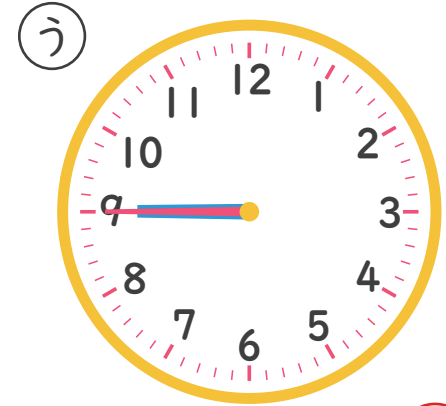


なんじなんぷん

ただしとけいをこたえましょう！(5)

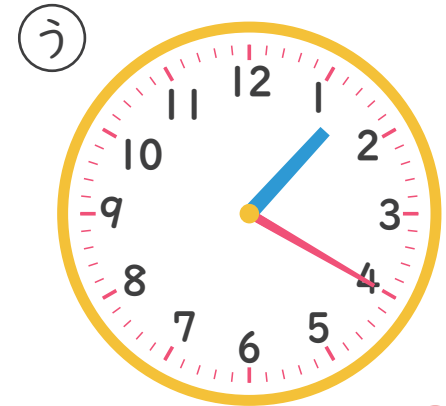
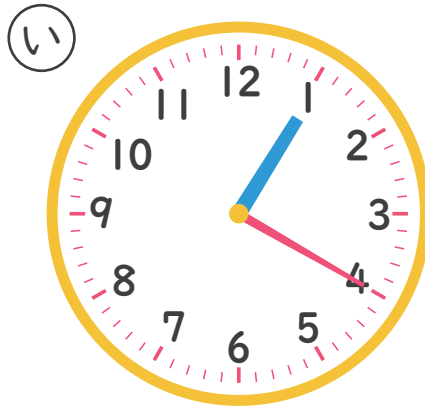
ねん くみ なまえ

1 9じ45ふんのとけいはどれですか。



こたえ あ

2 1じ20ふんのとけいはどれですか。



こたえ う